


しょうがく1ねんせい8がつ5じかんめ

## ひきざん／かずをくらべる②


 どちらがどれだけおいしいですか？しきとこたえをかきましょう。

かぶとむし と てんとうむし




しき

こたえ

が

ひき おおい

ぶどう と もも



しき

こたえ

が

こ おおい

かたつむり と かえる




しき

こたえ

が

びき おおい

あかい はな と あおい はな



しき


こたえ

が

ほん おおい

しょうがく1ねんせい8がつ5じかんめ  
ひきざん／かずをくらべる②



 どちらがどれだけおいしいですか？しきとこたえをかきましょう。

かぶとむし と てんとうむし



しき

$$6 - 4 = 2$$

こたえ


かぶとむし

が

2

ひき おおい

ぶどう と もも



しき

$$7 - 3 = 4$$

こたえ

もも

が

4

こ おおい

かたつむり と かえる



しき

$$8 - 5 = 3$$

こたえ


かたつむり

が

3

びき おおい

あかい はな と あおい はな



しき

$$9 - 4 = 5$$

こたえ

あおいはな

が

5

ほん おおい