




しょうがく1ねんせい7がつ5じかんめ  
たしざん／0を つかって みよう

 え を みて  に あう かず を かきましょう

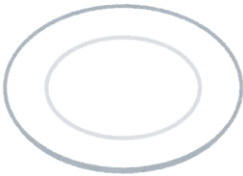


しき

$$2 + 1 = 3$$

こたえ

3 ばん




しき

$$\begin{array}{|c|c|} \hline & \\ \hline & \\ \hline \end{array} + 2 = \begin{array}{|c|c|} \hline & \\ \hline & \\ \hline \end{array}$$

こたえ

こ




しき

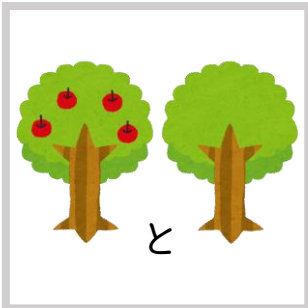
$$3 + \begin{array}{|c|c|} \hline & \\ \hline & \\ \hline \end{array} = \begin{array}{|c|c|} \hline & \\ \hline & \\ \hline \end{array}$$

こたえ

こ

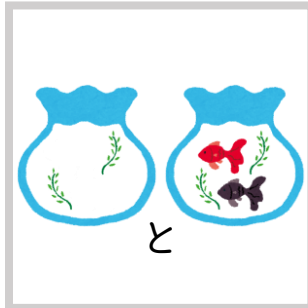
 した の 3つ の え の なか で  $0 + 3$  は どれ ですか？

①




と

②



と

③




と

こたえ


ばん

しょうがく1ねんせい7がつ5じかんめ  
たしざん／0を つかって みよう



 え を みて 


 に あう かず を かきましょう



しき

$$2 + 1 = 3$$

こたえ

3 ばん



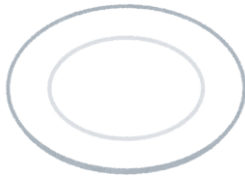

しき

$$0 + 2 = 2$$

こたえ

2

こ




しき

$$3 + 0 = 3$$

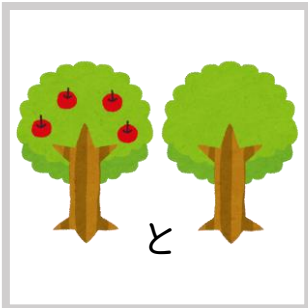
こたえ

3

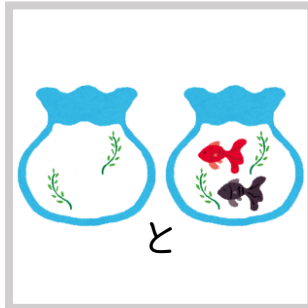
こ

 した の 3つ の え の なか で  $0 + 3$  は どれ ですか？


①



②



③



こたえ

3

ばん