


しょうがく1ねんせい7がつ4じかんめ


たしざん／かず が ふえる②

え を み て し き と こ た え を か き ま し ょ う




しき

こたえ




しき

こたえ



しき

こたえ



しき


こたえ

しょうがく1ねんせい7がつ4じかんめ

たしざん／かず が ふえる②



え を みて しき と こたえ を かきましょう




しき

$$2 + 2 = 4$$

こたえ

4 こ




しき

$$3 + 4 = 7$$

こたえ

7 わ




しき

$$4 + 2 = 6$$

こたえ

6 ぽん



しき

$$3 + 2 = 5$$

こたえ

5 にん