




しょうがく1ねんせい6がつ8じかんめ


すうじのひろば／かずをさがそう





にはいるかずをかんがえよう

5 は  と 36 は 1 と  は 3 と 48 は  と 29 は 6 と  は 3 と 7

7
 \wedge
 5

8
 \wedge
 7 


 \wedge
 5 4

10
 \wedge
 2

しょうがく1ねんせい6がつ8じかんめ

すうじのひろば／かずをさがそう



にはいるかずをかんがえよう



5 は 2 と 3

6 は 1 と 5

7 は 3 と 4

8 は 6 と 2

9 は 6 と 3

10 は 3 と 7

$$\begin{array}{c} 7 \\ \wedge \\ \boxed{2} \quad 5 \end{array}$$

$$\begin{array}{c} 8 \\ \wedge \\ 7 \quad \boxed{1} \end{array}$$

$$\begin{array}{c} \boxed{9} \\ \wedge \\ 5 \quad 4 \end{array}$$

$$\begin{array}{c} 10 \\ \wedge \\ \boxed{8} \quad 2 \end{array}$$