



しょうがく1ねんせい5がつ9じかんめ

## 10までのかず／10をつくってみよう②


 せんでおすんで10をつくろう

2 5 9 6 3 8 1 4 7

4 1 8 7 9 3 5 2 6


 めろんが10こあります。はこのなかになんこのこっているかな？

	    		こ
	       		こ
	     		こ
	   		こ
	        		こ

しょうがく1ねんせい5がつ9じかんめ

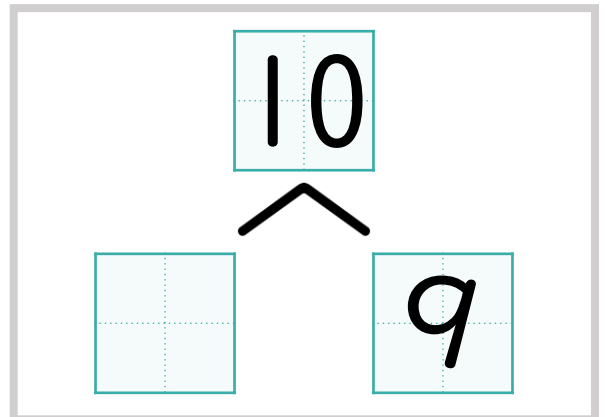
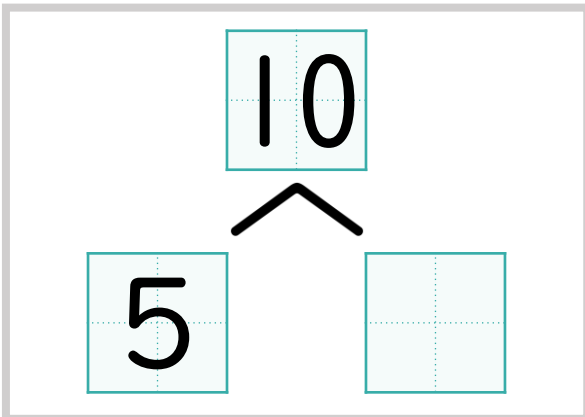
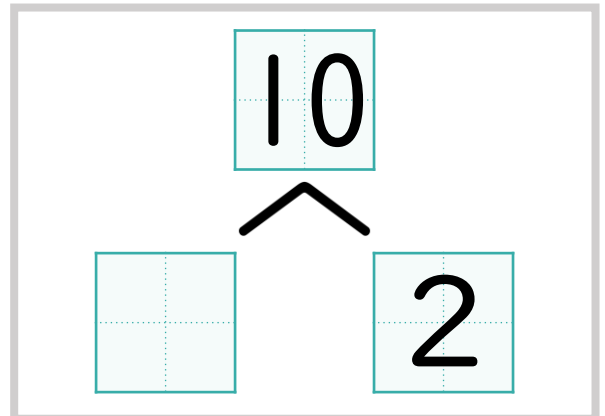
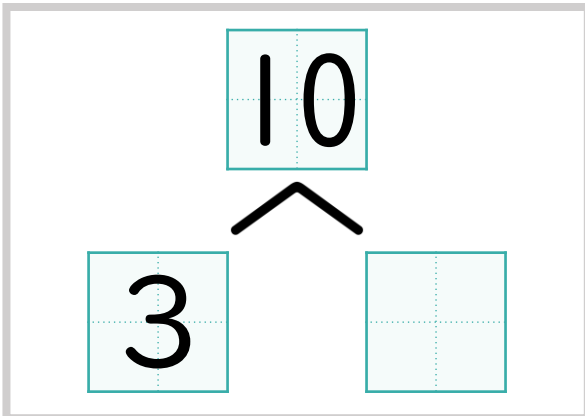
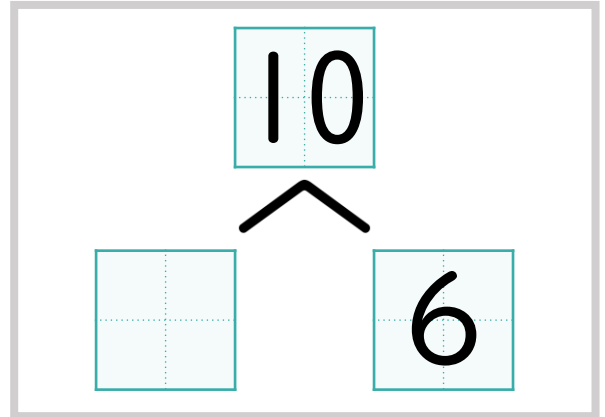
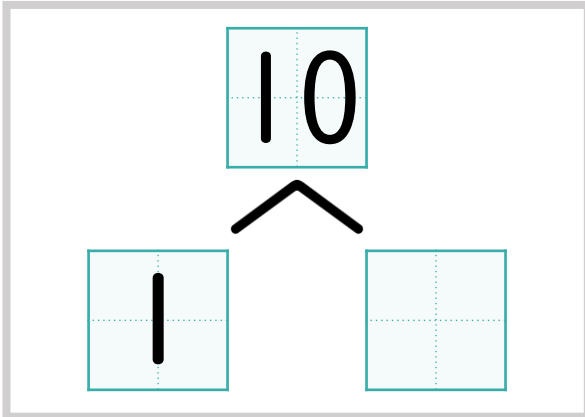
10までの かず／10を つくって みよう②



にはいる かず を かんがえよう



あと いくつ で 10に なる かな？

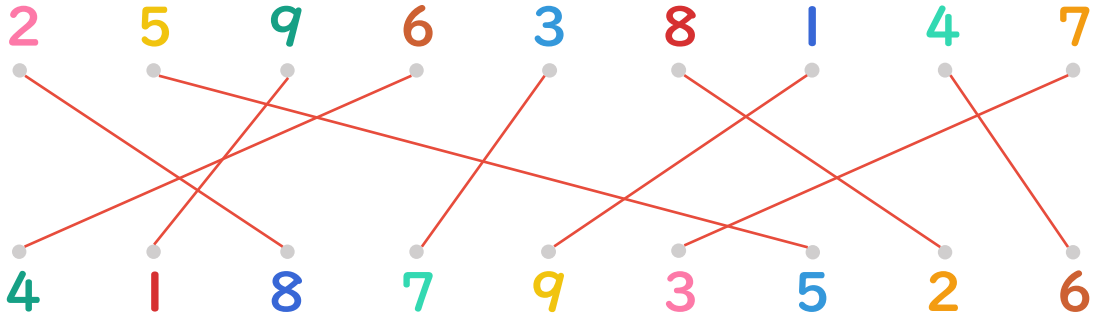


しょうがく1ねんせい5がつ9じかんめ

10までの かず／10を つくって みよう②



せんでおすんで10をつくろう



めろんが10こあります。はこのなかになんこのこっているかな？

	<div style="border: 1px solid black; padding: 5px; display: inline-block;">5</div> こ
	<div style="border: 1px solid black; padding: 5px; display: inline-block;">2</div> こ
	<div style="border: 1px solid black; padding: 5px; display: inline-block;">4</div> こ
	<div style="border: 1px solid black; padding: 5px; display: inline-block;">6</div> こ
	<div style="border: 1px solid black; padding: 5px; display: inline-block;">1</div> こ

しょうがく1ねんせい5がつ9じかんめ

10までの かず／10を つくって みよう②



にはいる かず を かんがえよう



あと いくつ で 10に なる かな？

