

しょうがく1ねんせい5がつ8じかんめ

10までの かず／10を つくって みよう①



にはいる かず を かんがえよう



10は いくつ と いくつ に わけられる かな？

10	

10	

10	

10	

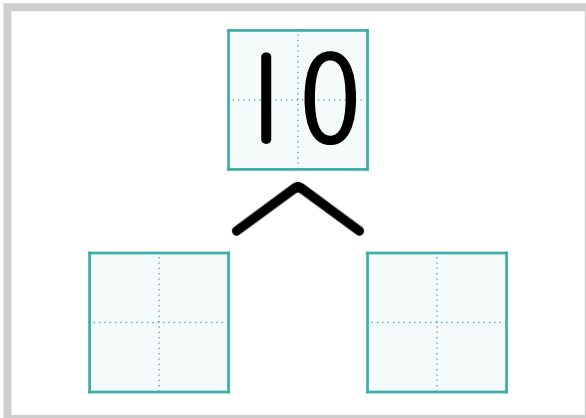
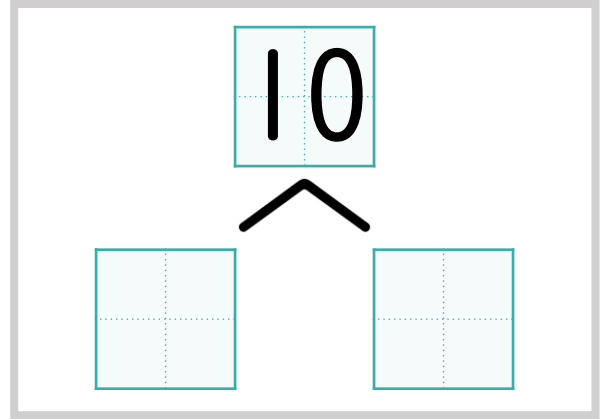
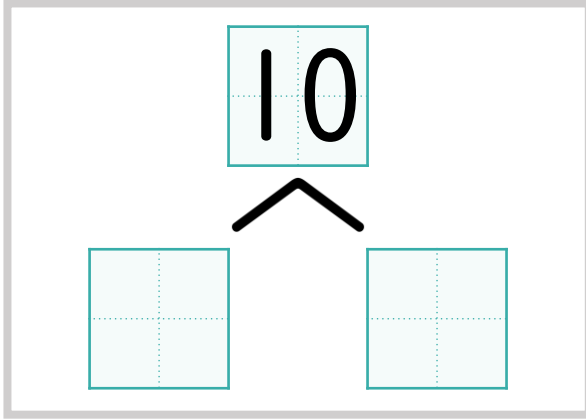
10	

10	

しょうがく1ねんせい5がつ8じかんめ

10までの かず／10をつくってみよう①

○ ○ ○ ○ ○ ○ ○ ○ ○ ○ ○



しょうがく1ねんせい5がつ8じかんめ

10までの かず／10を つくって みよう①

こたえ

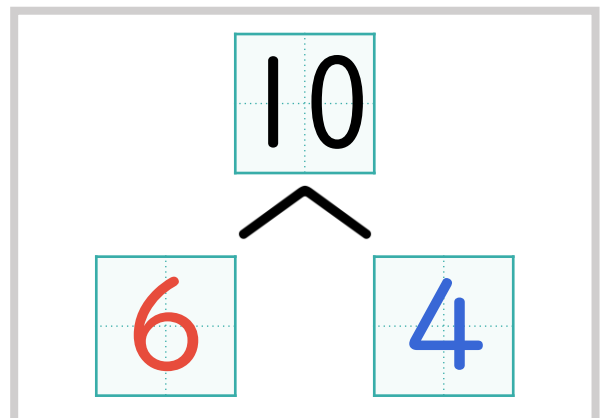
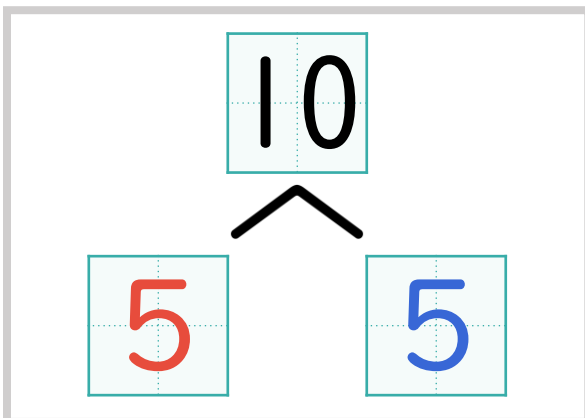
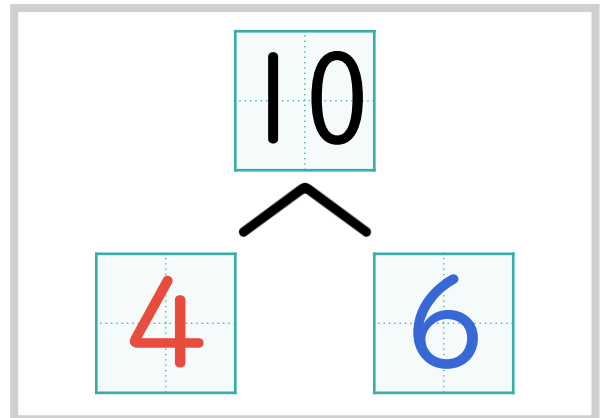
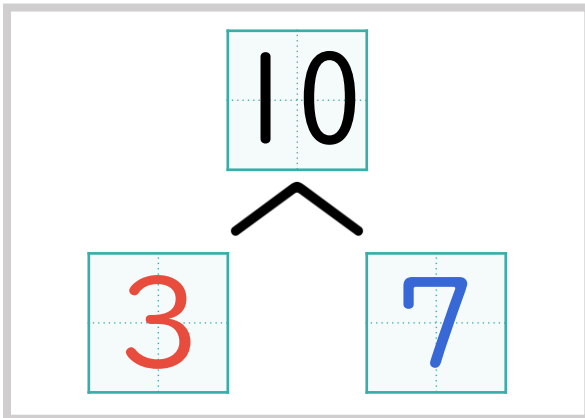
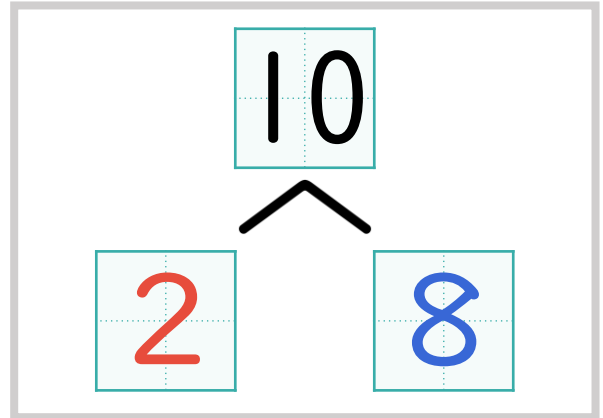
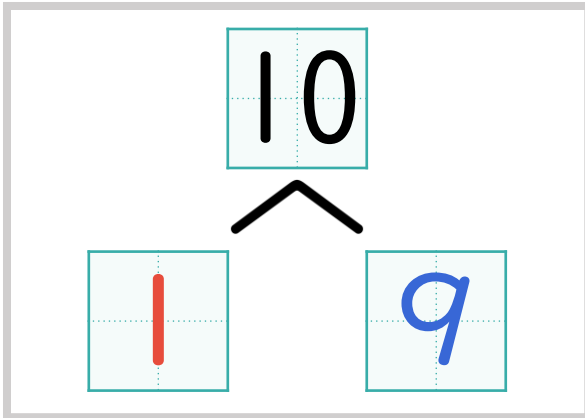


にはいる かず を かんがえよう

○ ○ ○ ○ ○ ○ ○ ○ ○ ○



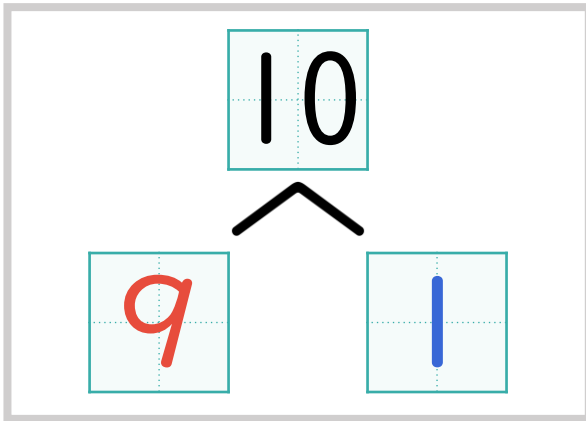
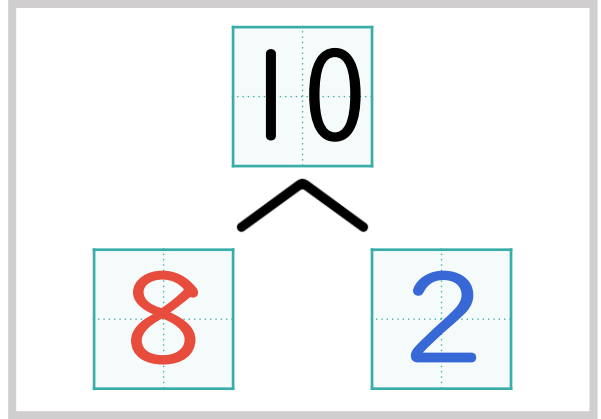
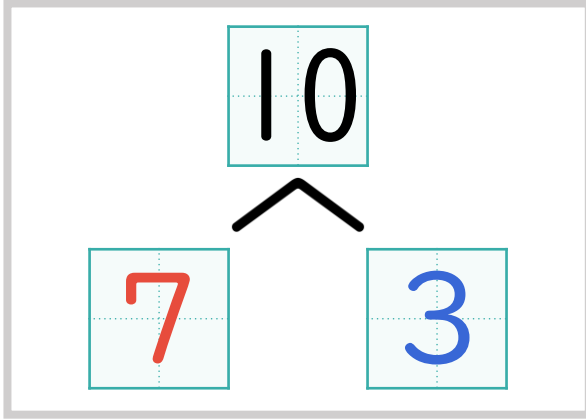
10は いくつ と いくつ に わけられる かな？



しょうがく1ねんせい5がつ8じかんめ

10までの かず／10をつくってみよう①

○ ○ ○ ○ ○ ○ ○ ○ ○ ○ ○



おぼえよう

10 は

1 と 9

6 と 4

2 と 8

7 と 3

3 と 7

8 と 2

4 と 6

9 と 1

5 と 5