

しょうがく1ねんせい5がつ6じかんめ

10までの かず／8をつくって みよう

○ ○ ○ ○ ○ ○ ○ ○



あと いくつ で 8になる かな？

1 と <input type="text"/>	2 と <input type="text"/>	3 と <input type="text"/>
<input type="text"/> と 4	<input type="text"/> と 5	<input type="text"/> と 6
7 と <input type="text"/>		




8は いくつ と いくつ に わけられる かな？

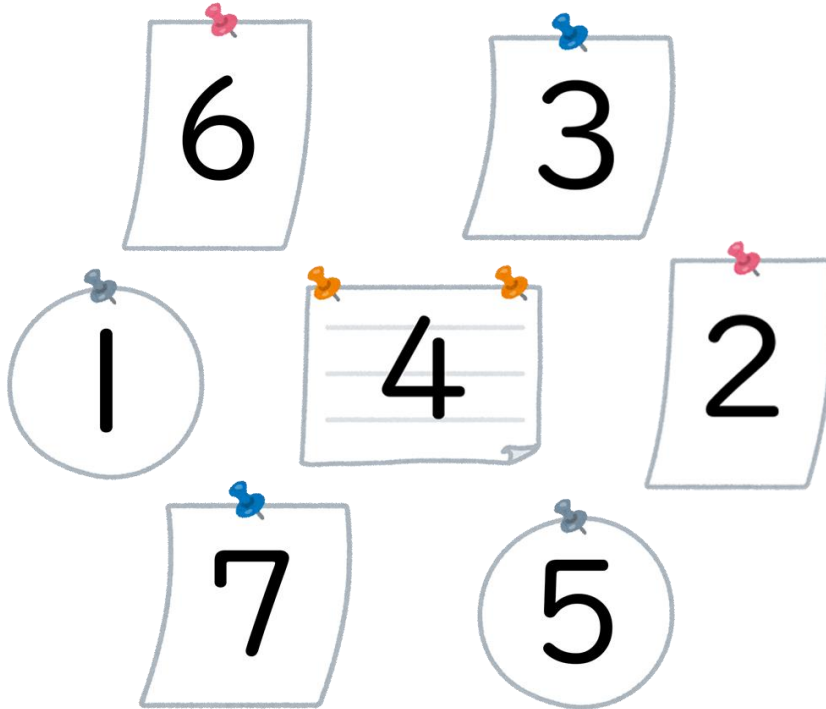
<div style="text-align: center;">8</div> <div style="display: flex; justify-content: space-around;"> <div>3</div> <div><input type="text"/></div> </div>	<div style="text-align: center;">8</div> <div style="display: flex; justify-content: space-around;"> <div>1</div> <div><input type="text"/></div> </div>
<div style="text-align: center;">8</div> <div style="display: flex; justify-content: space-around;"> <div><input type="text"/></div> <div>4</div> </div>	<div style="text-align: center;">8</div> <div style="display: flex; justify-content: space-around;"> <div><input type="text"/></div> <div>2</div> </div>

しょうがく1ねんせい5がつ6じかんめ

10までの かず／8を つくって みよう

○ ○ ○ ○ ○ ○ ○ ○

 ふたつの かず を あわせて 8をつくろう



しょうがく1ねんせい5がつ6じかんめ

10までの かず／8をつくって みよう

○ ○ ○ ○ ○ ○ ○ ○



あと いくつ で 8になる かな?

1 と 7	2 と 6	3 と 5
4 と 4	3 と 5	2 と 6
7 と 1		

8は いくつ と いくつ に わけられる かな?


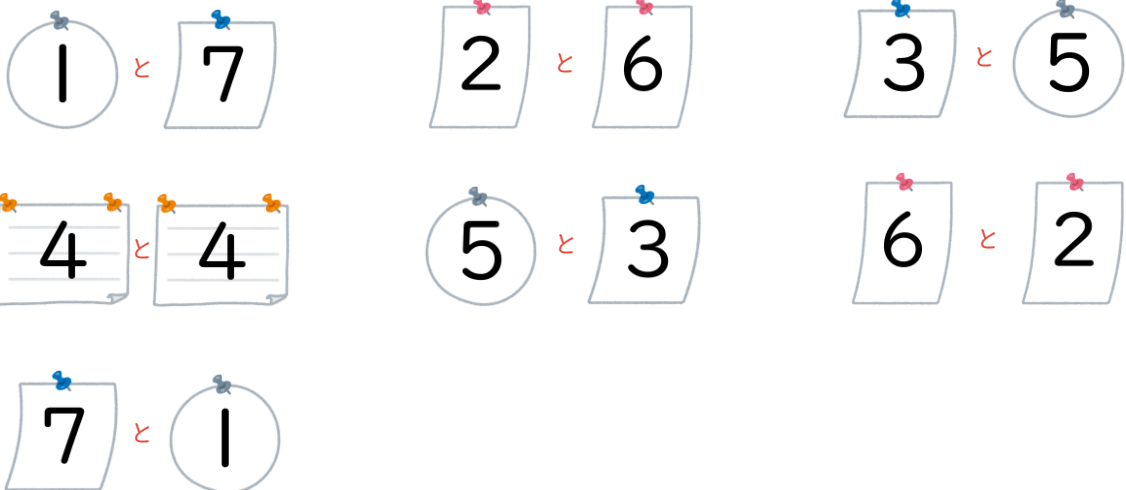
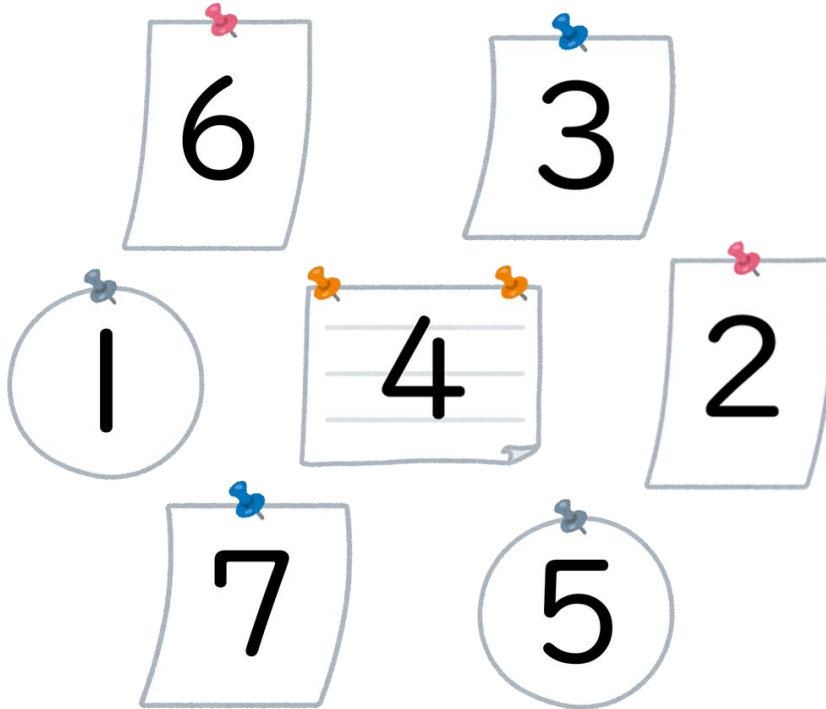
<div style="text-align: center;">8 └─┘ 3 5</div>	<div style="text-align: center;">8 └─┘ 1 7</div>
<div style="text-align: center;">8 └─┘ 4 4</div>	<div style="text-align: center;">8 └─┘ 6 2</div>

しょうがく1ねんせい5がつ6じかんめ

10までの かず／8をつくって みよう



○ ○ ○ ○ ○ ○ ○ ○

 ふたつの かず を あわせて 8をつくろう


しょうがく1ねんせい5がつ6じかんめ

10までの かず／8を つくって みよう



おぼえよう

8 は

1 と 7
2 と 6
3 と 5
4 と 4
5 と 3
6 と 2
7 と 1