

しょうがく1ねんせい4がつ7じかんめ


5までの かず／4を つくって みよう









にはいる かず を かんがえよう





いくつといくつで4になるかな？




1 と 


 


   



2 と 




3 と 







 








あといくつで4になるかな？



2 と 

1 と 

3 と 

しょうがく1ねんせい4がつ7じかんめ

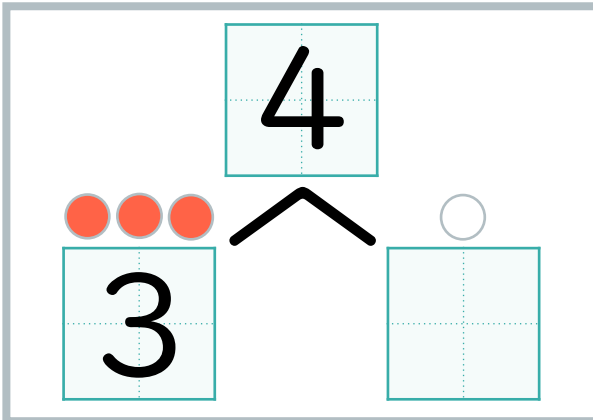
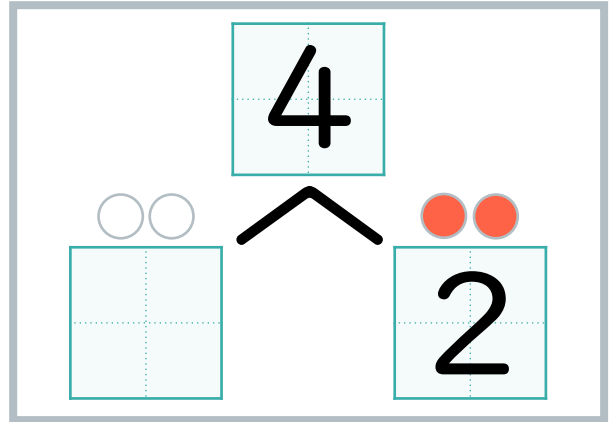
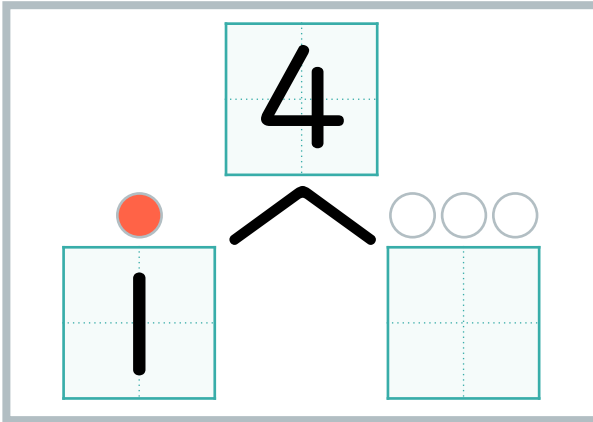
5までの かず／4を つくって みよう



にはいる かず を かんがえよう



4は いくつ と いくつ かな？



しょうがく1ねんせい4がつ7じかんめ

5までの かず／4を つくって みよう



にはいる かず を かんがえよう



いくつといくつで4になるかな？

1 と 3

● ○ ○ ○

2 と 2

● ● ○ ○

3 と 1

● ● ● ○



あといくつで4になるかな？

2 と 2

● ● ○ ○

1 と 3

● ○ ○ ○

3 と 1

● ● ● ○

しょうがく1ねんせい4がつ7じかんめ

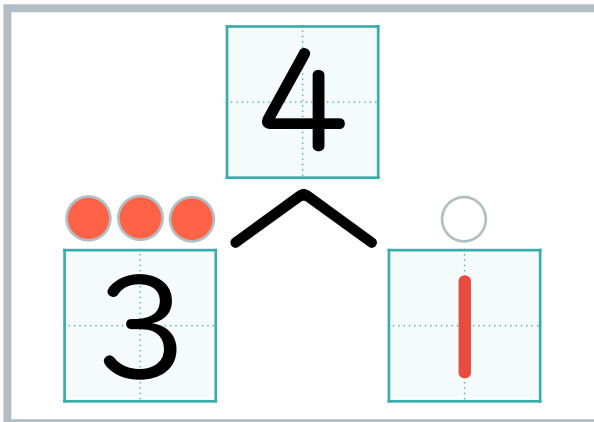
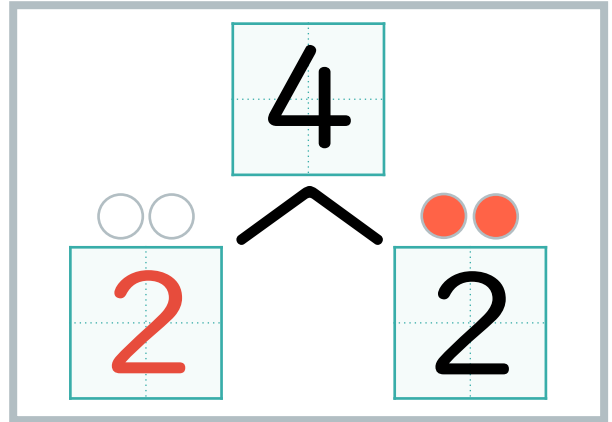
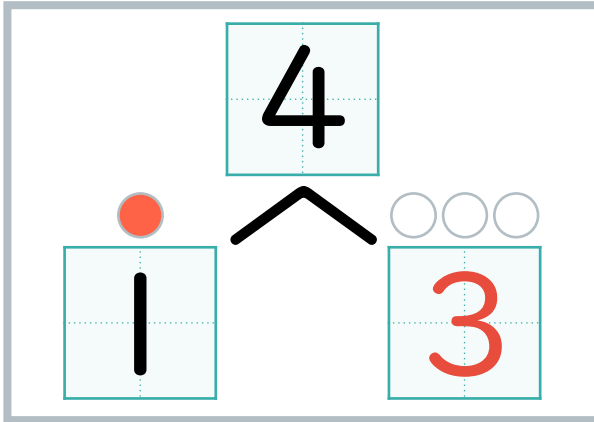
5までのかず／4をつくってみよう



にはいるかずをかんがえよう



4はいくつといくつかな？



おぼえよう

4 は { 1 と 3
2 と 2
3 と 1