

しょうがく1ねんせい5がつ

こんげつ の てすと

1. かずがおなじものをせんでおすびましょう



10

7

9


6

8

2. えをみてかずをすうじでかきましょう



ぼーる




ばつと




けーき



ふおーく



まめ



しょうがく1ねんせい5がつ


こんげつ の ですと

3. いくつ と いくつ で 6に なりますか？



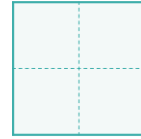
1

と




3

と



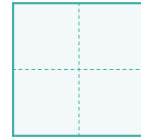
2

と



4

と



4. 7は いくつ と いくつ ですか？

7

は

1

と




7

は

4

と



7

は

3

と




7

は

6

と



7

は

2

と




7

は

5


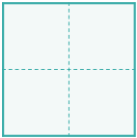

と









しょうがく1ねんせい5がつ

こんげつ の てすと

5. しかく に あてはまる かず を かきましょう

8 は 3 と 9 は 3 と 10 は 6 と 10 は 8 と  は 4 と 4 は 2 と 7

 5  4

 10
 5  

 8
 7  

 1  9

しょうがく1ねんせい5がつ

こんげつ の てすと



1ねんせい5がつ1・2じかんめ

1. かずがおなじものをせんでおすびましょう

10 7 9 6 8

1ねんせい5がつ3じかんめ

2. えをみてかずをすうじでかきましょう

ぼーる 9
 ぱっと 6
 けーき 7
 ふおーく 8
 まめ 10

しょうがく1ねんせい5がつ

こんげつ の てすと



1ねんせい5がつ4じかんめ

3. いくつ と いくつ で 6に なりますか？



1 と 5

3 と 3

2 と 4

4 と 2

1ねんせい5がつ5じかんめ

4. 7は いくつ と いくつ ですか？

7 は 1 と 6

7 は 4 と 3

7 は 3 と 4

7 は 6 と 1

7 は 2 と 5

7 は 5 と 2

しょうがく1ねんせい5がつ

こんげつ の てすと



1ねんせい5がつ6・7・8・9じかんめ

5. しかく に あてはまる かず を かきましょう

8 は 3 と 59 は 3 と 610 は 6 と 410 は 8 と 28 は 4 と 49 は 2 と 7

9

5 4

10

5 5

8

7 1

10

1 9