

しょうがく1ねんせい4がつ

こんげつ の てすと

1. かずがおなじものをせんでおすびましょう



●



●




●



●




●




●

●



●

●



●

●



●

●



●

●



●



●



●




●




●

2. えをみてかずをすうじでかきましょう




りんご



ばなな



みかん



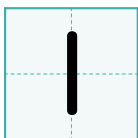
なし



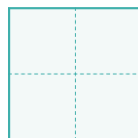
もも



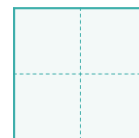
3. いくつといくつで3になりますか



と



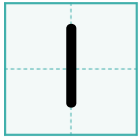
と




しょうがく1ねんせい4がつ

こんげつ の ですと



4. あと いくつ で 4に なりますか




と



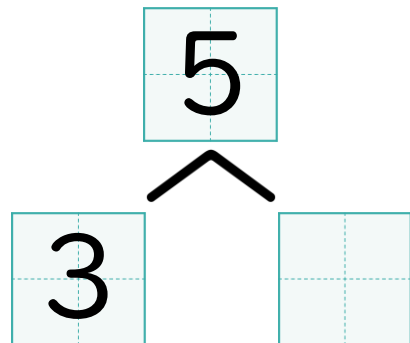
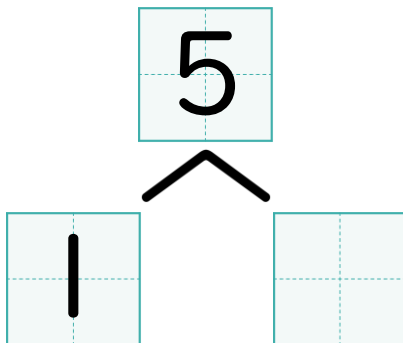
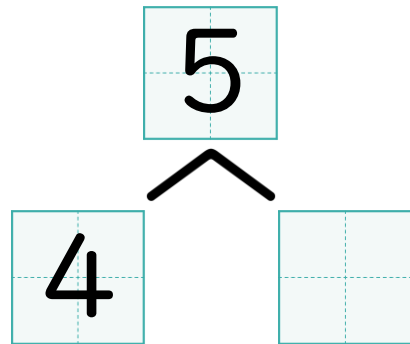
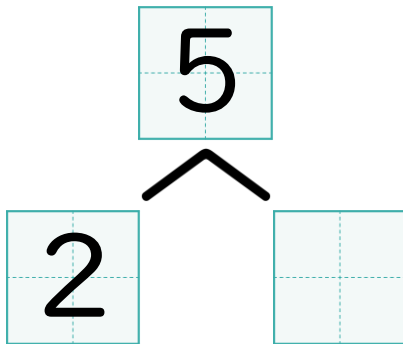
と



と



5. 5は いくつ と いくつ ですか



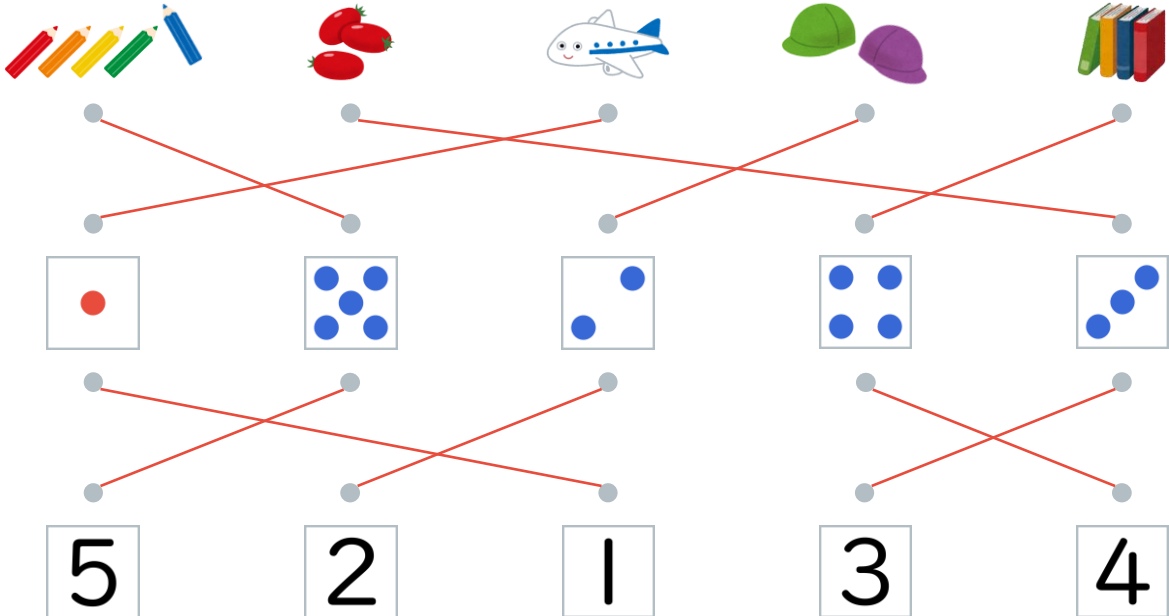
しょうがく1ねんせい4がつ

こんげつ の てすと



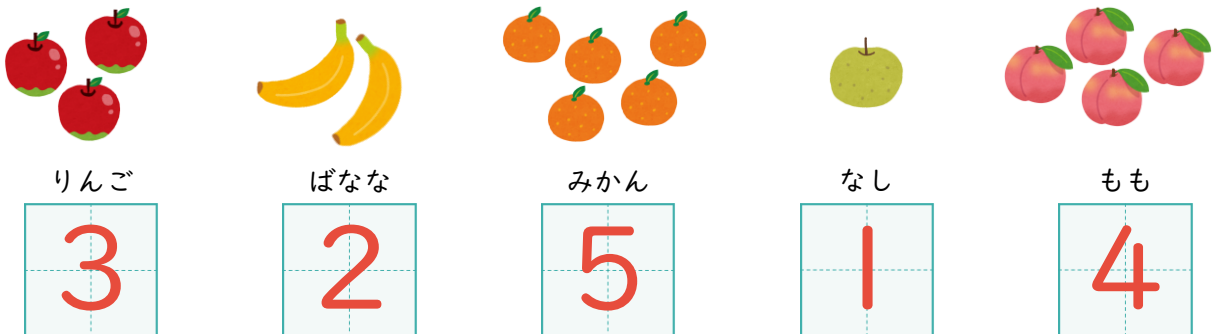
1ねんせい4がつ1・2・3じかんめ

1. かずがおなじものをせんでおすびましょう



1ねんせい4がつ4・5じかんめ

2. えをみてかずをすうじでかきましょう



1ねんせい4がつ6じかんめ

3. いくつといくつで3になりますか



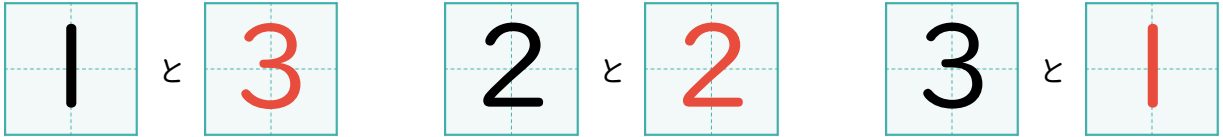
しょうがく1ねんせい4がつ

こんげつ の てすと



1ねんせい4がつ7じかんめ

4. あと いくつ で 4に なりますか



1ねんせい4がつ8じかんめ

5. 5は いくつ と いくつ ですか

